



**EVALUAREA COMPETENȚELOR FUNDAMENTALE
LA FINALUL CLASEI a II-a
2016**

Test 1

MATEMATICĂ

Județul / sectorul.....

Localitatea.....

Școala.....

Numele și prenumele elevei / elevului.....





.....

Clasa a II-a.....

Băiat

Fată

Elevii clasei a II-a vor să realizeze colajul „Primăvara veselă”. Ei decupează diferite imagini pe care să le lipească apoi, pentru a realiza colajul. Numărul imaginilor decupate este scris în tabelul de mai jos.

			
Albine 153	Lalele 114	Fluturi 75	Ghiocei 214

1. Câte imagini cu **lalele** și cu **ghiocei** ați decupat în total? a întrebat doamna învățătoare.
Încercuiește litera corespunzătoare răspunsului corect.

- a) 114
- b) 214
- c) 328
- d) 338

Nu se completează de către elev
COD

1.


2. Maria compară numărul imaginilor cu **albine** cu cel al imaginilor cu **ghiocei**.
Compară-le și tu!
Scrie, în caseta de mai jos, unul din semnele <, =, > pentru ca relația să fie corectă.

153 214

Nu se completează de către elev
COD

2.

3. Cu cât este mai mare numărul imaginilor cu **ghiocei** decât cel al imaginilor cu **albine**?
Scrive, pe spațiul dat, rezolvarea problemei.



Nu se completează de către elev
COD

3.

4. Băieții au decupat câteva imagini asemănătoare celor prezentate mai jos.
Cu ce figură geometrică se aseamănă ramele imaginilor?
Încercuiește litera corespunzătoare răspunsului corect.




- a) cerc;
- b) dreptunghi;
- c) pătrat;
- d) triunghi.

Nu se completează de către elev
COD

4.

5. Irina și Cristina decupează imaginile cu ghiociei. Află câte imagini cu ghiociei au decupat împreună cele două, știind că Irina a decupat 5 coli a câte 6 imagini fiecare, iar Cristina a decupat 5 coli a câte 4 imagini fiecare.

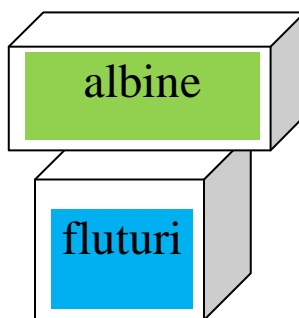
Scrie, pe spațiul dat, rezolvarea problemei.



Nu se completează de către elev
COD

5.

6. Pentru colaj, au fost decupate imagini, care au fost așezate în cutii diferite. Cutiile sunt așezate ca în imaginea alăturată.



Care dintre următoarele afirmații este adevărată?

Încercuiește litera corespunzătoare răspunsului corect.

- a) Cutia cu ghiociei se află deasupra cutiei cu lalele.
- b) Cutia cu fluturi este în interiorul cutiei cu albine.
- c) Cutia cu albine se află deasupra cutiei cu fluturi.
- d) Cutia cu lalele se află dedesubtul cutiei cu ghiociei.


Nu se completează de către elev
COD

6.

7. Copiii au așezat cele 20 de imagini decupate pentru colaj, în cutii de câte 5 bucăți fiecare. Câte cutii au folosit pentru imagini?

Află rezultatul prin scăderea repetată a aceluiași număr.

Scrie, pe spațiul dat, rezolvarea problemei.




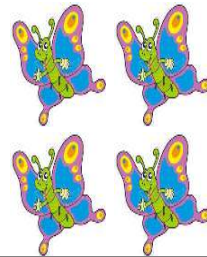
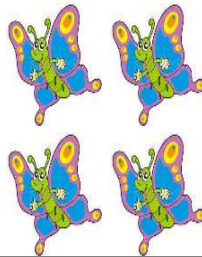
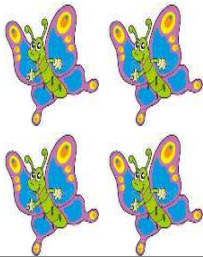
Nu se completează de către elev
COD

7.

8. Pentru a calcula mai ușor numărul imaginilor decupate aranjate de el, Mihai le-a grupat ca în imaginea de mai jos. Câte imagini a decupat Mihai?

Află rezultatul prin adunare repetată de termeni egali.

Scrie, pe spațiul dat, rezolvarea problemei.



Nu se completează de către elev
COD

8.

9. Copiii au decupat imaginile pentru colaj de la ora 10:00 până la ora 13:00.

Câte ore au lucrat ei pentru decuparea imaginilor?

Încercuiește litera corespunzătoare răspunsului corect.

- a) 2 ore
- b) 3 ore
- c) 4 ore
- d) 5 ore

Nu se completează de către elev
COD

9.

10. Imaginile decupate au fost aranjate respectând regula din șirul de mai jos.

Ce imagini urmează în șir?

Încercuiește litera corespunzătoare răspunsului corect.



a)



b)



c)



d)



Nu se completează de către elev
COD


10.

11. Copiii au așezat imaginile astfel: pe 5 rânduri câte 5 imagini și pe 6 rânduri câte 2 imagini. Pentru a afla câte imagini sunt în total, Victor a scris următorul exercițiu:

$$5 \times 5 + 6 \times 2 =$$

Ajută-l tu să afle câte imagini au fost în total.

Scrie, pe spațiul dat, rezolvarea exercițiului.



Nu se completează de către elev
COD

11.

12. După ce au terminat colajul, elevii au adunat imaginile rămase nefolosite și le-au așezat în cutii. Cristina și Ana au vrut să vadă care dintre ele a adunat mai multe imagini nefolosite. Numărul acestora este prezentat în tabelul alăturat.

	Imagini cu ghiocci	Imagini cu albine	Imagini cu lalele	Imagini cu fluturi
Cristina	15	20	15	10
Ana	15	10	20	5

Simona spune că Ana a adunat mai multe imagini nefolosite decât Cristina. Are dreptate Simona?

Explică, în spațiul dat, răspunsul tău.

Da, pentru că _____

Nu, pentru că _____

Nu se completează de către elev
COD

FELICITĂRI, AI AJUNS LA SFÂRȘITUL TESTULUI!
MULȚUMIM PENTRU PARTICIPARE!

12.