



**EVALUAREA COMPETENȚELOR FUNDAMENTALE  
LA FINALUL CLASEI a II-a  
2017**

**Test 2**

**MATEMATICĂ**

Județul / sectorul.....

Localitatea.....

Școala.....

Numele și prenumele elevei / elevului.....

.....





Clasa a II-a.....

Băiat

Fată



Elevii clasei a II-a iubesc natura, așa că împreună cu doamna învățătoare au pornit într-o drumeție prin pădure, ca să descopere tainele insectelor. Au admirat florile multicolore și au privit insectele. La sfârșitul zilei, și-au notat pe cartonașe numărul insectelor întâlnite. Numărul acestora este scris în tabelul de mai jos. Doamna învățătoare le-a pregătit elevilor câteva bilețele cu întrebări.

			
79 de buburuze	149 de fluturi	300 de libelule	45 de albine

1. Câte **buburuze** și **libelule** ați întâlnit în total prin pădure? scrie pe un bilețel.  
**Încercuiește și tu litera corespunzătoare răspunsului corect.**

- a) 124
- b) 228
- c) 345
- d) 379

Nu se completează de către elev  
COD

1.

2. Alexandru are de comparat numărul **fluturilor** cu numărul **libelulelor**.  
**Scrive și tu, în căsuța de mai jos, unul dintre semnele <, =, > pentru ca relația să fie corectă.**

149  300


Nu se completează de către elev  
COD

2.







7. Maria a numărat 4 libelule, iar Andreea de 6 ori mai multe.  
**Marius trebuie să calculeze câte libelule a numărat Andreea.**  
**Scrive și tu, pe spațiul dat, rezolvarea problemei.**



Nu se completează de către elev  
COD

7.

8. Copiii au lipit imagini cu insectele văzute pe cartonașe.  
**Cu ce formă geometrică seamănă cartonașul pe care este lipit fluturele?**  
**Încercuiește litera corespunzătoare răspunsului corect.**



- a) cerc
- b) dreptunghi
- c) pătrat
- d) triunghi


Nu se completează de către elev  
COD

8.

9. Cristina are de calculat cu cât este mai mare numărul fluturilor decât numărul albinelor. Ea a scris următorul exercițiu:  $149 - 45 = 104$ .

**Verifică tu, prin operație inversă, dacă a calculat corect Cristina.**

**Scrie, pe spațiul dat, verificarea exercițiului.**




Nu se completează de către elev  
COD

9.

10. Andrei a realizat un tablou folosind figuri geometrice.

**Câte triunghiuri și câte cercuri a folosit el pentru realizarea soarelui?**

**Încercuiește litera corespunzătoare răspunsului corect.**



- a) 5 triunghiuri și 2 cercuri;
- b) 6 triunghiuri și 1 cerc;
- c) 7 triunghiuri și 1 cerc;
- d) 8 triunghiuri și 2 cercuri.

Nu se completează de către elev  
COD

10.

11. Radu a avut de numărat din doi în doi fluturii pe care i-a văzut în pădure.  
**Ajută-l să continue numărarea.**  
**Scrive și tu, în casetele goale, aceste numere.**

36

40

46

Nu se completează de către elev  
COD

11.

12. La final, băieții s-au așezat câte 3 pe 5 rânduri. Sunt ei suficienți pentru a dansa cu cele 15 de fete, astfel încât să formeze câte o pereche?  
**Explică, pe spațiul dat, răspunsul tău.**

**Da**, pentru că \_\_\_\_\_

**Nu**, pentru că \_\_\_\_\_

Nu se completează de către elev  
COD

12.

**FELICITĂRI, AI AJUNS LA SFÂRȘITUL TESTULUI!**  
**MULȚUMIM PENTRU PARTICIPARE!**