



**EVALUAREA COMPETENȚELOR FUNDAMENTALE
LA FINALUL CLASEI a II-a
2019**

Test 1

MATEMATICĂ

Județul / sectorul.....

Localitatea.....

Școala.....

Numele și prenumele elevei / elevului.....

.....

Clasa a II-a.....

Băiat

Fată

MAREA NEAGRĂ



Corina, Gabriel, Simona și Tudor au strâns mai multe poze cu informații interesante. Numărul pozelor strânse de fiecare copil este trecut în tabelul de mai jos.

Corina	Gabriel	Simona	Tudor
145	132	175	166

1. Tudor a strâns 166 de poze, iar Gabriel 132 de poze.

Scrive, în caseta de mai jos, unul din semnele $<$, $>$, $=$ pentru ca relația următoare să fie corectă.


$$166 \square 132$$

Nu se completează de către elev
COD

1.

2. Analizează numerele din tabelul de mai sus și află diferența dintre cel mai mare și cel mai mic număr.

Scrive, pe spațiul dat, rezolvarea problemei.





Nu se completează de către elev
COD

2.

3. Gabriel a așezat câteva poze ca în imaginea de mai jos. Câte poze a așezat în total Gabriel?

Află rezultatul prin adunarea repetată a aceluiași număr.

Scrie, pe spațiul dat, rezolvarea problemei.



Nu se completează de către elev
COD

3.

4. Tudor a așezat pozele pe 6 rânduri, fiecare rând având câte 5 poze. Câte poze a așezat Tudor?


Încercuiește litera corespunzătoare răspunsului corect.

- a) 1;
- b) 11;
- c) 30;
- d) 35.

Nu se completează de către elev
COD

4.

5. Simona are 12 poze diferite și prezintă colegilor săi câte 3 poze în fiecare zi.
În câte zile reușește Simona să prezinte toate pozele?
Află rezultatul prin scăderea repetată a aceluiași număr.
Scrie, pe spațiul dat, rezolvarea problemei.



Nu se completează de către elev
COD

5.

6. Cu ce figură geometrică seamănă poza de mai jos?

Încercuiește litera corespunzătoare răspunsului corect.



- a) cerc;
- b) dreptunghi;
- c) pătrat;
- d) triunghi.

Nu se completează de către elev
COD

6.

7. Tudor a lucrat de la ora 11:00 până la ora 14:00.

Câte ore a lucrat Tudor?



Încercuiește litera corespunzătoare răspunsului corect.

- a) 3 ore;
- b) 4 ore;
- c) 14 ore;
- d) 25 ore.

Nu se completează de către elev
COD

7.

8. **Scrie, pe spațiul dat, numele figurilor geometrice de mai jos.**



Nu se completează de către elev
COD

8.



FELICITĂRI, AI AJUNS LA SFÂRȘITUL TESTULUI!

MULȚUMIM PENTRU PARTICIPARE!