



**EVALUAREA COMPETENȚELOR FUNDAMENTALE
LA FINALUL CLASEI a II-a
2020**

**MODEL
TEST 1**

MATEMATICĂ

Județul / sectorul.....

Localitatea.....

Școala.....

Numele și prenumele elevei / elevului.....

.....

Clasa a II-a.....

Băiat


Fată

5. Simona vrea să le prezinte colegilor săi 12 cartonașe cu informații despre Marea Neagră. Ea alege câte 3 cartonașe diferite pentru fiecare zi.

În câte zile reușește Simona să termine prezentările?

Află rezultatul prin scăderea repetată a aceluiași număr.

Scrive, pe spațiul dat, rezolvarea problemei.



Nu se completează de către elev
COD

5.

6. Corina le prezintă colegilor un cartonaș pe care este scrisă o curiozitate despre Marea Neagră. Cu ce figură geometrică seamănă acest cartonaș?

Încercuiește litera corespunzătoare răspunsului corect.



- a) cerc;
- b) dreptunghi;
- c) pătrat;
- d) triunghi.

Nu se completează de către elev
COD

6.

7. Gabriel se joacă împreună cu ceilalți colegi și așază cartonașele, respectând regula din șirul de mai jos.

Ce cartonașe urmează în șir?

Încercuiește litera corespunzătoare răspunsului corect.



a)



b)



c)



d)



Nu se completează de către elev
COD

7.

8. Tudor a prezentat 30 de cartonașe cu informații despre câțiva pești care trăiesc în Marea Neagră. El a folosit câte 10 cartonașe pentru fiecare pește.

Câți pești a prezentat Tudor?

Încercuiește litera corespunzătoare răspunsului corect.

- a) 0;
- b) 3;
- c) 20;
- d) 30.

Nu se completează de către elev
COD

8.

9. Pentru prezentarea sa, Tudor a lucrat de la ora 11:00 până la ora 14:00.

Câte ore a lucrat Tudor?

Încercuiește litera corespunzătoare răspunsului corect.

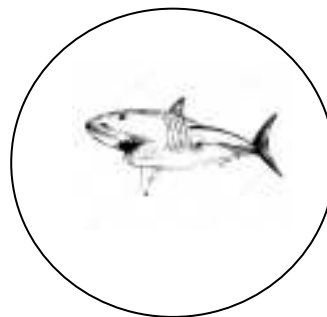
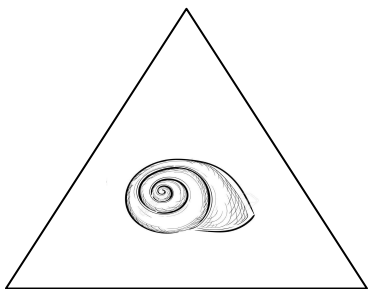
- a) 3 ore;
- b) 4 ore;
- c) 14 ore;
- d) 25 ore.

Nu se completează de către elev
COD

9.

10. Gabriel a folosit cartonașe de diferite forme geometrice.

Scrie, în spațiul dat, numele formei geometrice pe care o are cartonașul care prezintă un rechin.



Cartonașul care prezintă un rechin are forma de _____ .

Nu se completează de către elev
COD

10.

11. Simona a prezentat o imagine cu patru timbre cu animale care trăiesc în Marea Neagră.
În ce parte a imaginii se află timbrul cu un căluț de mare?
Încercuiește litera corespunzătoare răspunsului corect.



- a) dreapta jos;
- b) dreapta sus;
- c) stânga jos;
- d) stânga sus.

Nu se completează de către elev
COD

11.

