



**EVALUAREA COMPETENȚELOR FUNDAMENTALE
LA FINALUL CLASEI a II-a
2019**

Test 2

MATEMATICĂ

Județul / sectorul.....

Localitatea.....

Școala.....

Numele și prenumele elevei / elevului.....

.....

Clasa a II-a.....

Băiat

Fată

DELTA DUNĂRII



Bianca, Cosmin, Diana și Radu au strâns mai multe poze cu informații interesante. Numărul pozelor strânse de fiecare copil este trecut în tabelul de mai jos.

Bianca	Cosmin	Diana	Radu
135	121	168	155

1. Cosmin a strâns 121 de poze, iar Radu 155 de poze.

Scrive, în caseta de mai jos, unul din semnele $<$, $>$, $=$ pentru ca relația următoare să fie corectă.


$$121 \quad \square \quad 155$$

Nu se completează de către elev
COD

1.

2. Analizează numerele din tabelul de mai sus și află diferența dintre cel mai mare și cel mai mic număr.

Scrive, pe spațiul dat, rezolvarea problemei.



Nu se completează de către elev
COD

2.

7. Radu a lucrat de la ora 12:00 până la ora 14:00.

Câte ore a lucrat Radu?




Încercuiește litera corespunzătoare răspunsului corect.

- a) 2 ore;
- b) 3 ore;
- c) 14 ore;
- d) 26 ore.

Nu se completează de către elev
COD

7.

8. **Scrive, în spațiul dat, numele figurilor geometrice de mai jos.**



Nu se completează de către elev
COD

8.



FELICITĂRI, AI AJUNS LA SFÂRȘITUL TESTULUI!

MULȚUMIM PENTRU PARTICIPARE!