



**EVALUAREA COMPETENȚELOR FUNDAMENTALE
LA FINALUL CLASEI a II-a
2022**

Test 1

MATEMATICĂ

Județul / sectorul.....

Localitatea.....

Școala.....

Numele și prenumele elevei / elevului.....

.....

Clasa a II-a.....


Băiat

Fată

5. Bunicul a pregătit, pentru a duce la piață, 20 de lădițe cu mere și de 5 ori mai puține lădițe cu pere. Câte lădițe cu pere a pregătit bunicul?

Calculează prin scădere repetată a aceluiași număr.

Scrie, pe spațiul dat, rezolvarea problemei.




Nu se completează de către elev
COD

5.

6. Bunica i-a așteptat acasă pe copii cu o prăjitură cu fructe.

Cu ce figură geometrică se aseamănă tava în care bunica a copt prăjitura?

Încercuiește litera corespunzătoare răspunsului corect.



- a) dreptunghi
- b) cerc
- c) triunghi
- d) pătrat

Nu se completează de către elev
COD

6.

7. Acasă, Daria a realizat un desen, folosind ca model fructele pomilor văzuți în livadă și așezându-le ca în șirul de mai jos. Ce fructe urmează în șir?

Încercuiește litera corespunzătoare răspunsului corect.



Nu se completează de către elev
COD

7.

8. Bunica a cules 8 mere din pom și le-a împărțit în mod egal celor 4 copii. Câte mere a primit fiecare copil?

Încercuiește litera corespunzătoare răspunsului corect.

- a) 2 mere
- b) 4 mere
- c) 12 mere
- d) 32 mere

Nu se completează de către elev
COD

8.

9. Pe prima pagină a rețetei bunicii, Bianca a desenat un măr, ca în imaginea de mai jos. În ce parte a imaginii se află mărul?

Încercuiește litera corespunzătoare răspunsului corect.



PRĂJITURĂ CU MERE

- 3 mere
- 2 ouă
- 100 g făină
- 100 g zahăr
- 100 g unt
- praf de copt
- vanilie
- sare
- suc de lămâie




- a) în dreapta jos
- b) în dreapta sus
- c) în stânga jos
- d) în stânga sus

Nu se completează de către elev
COD

9.

10. Fiecare copil a lipit câte o imagine cu un fruct pe cartonașe de forme diferite.

Scrive, în spațiul dat, numele formei geometrice pe care o are cartonașul pe care este lipită imaginea cu un măr.



Cartonașul pe care este lipită imaginea cu un măr are forma de _____ .

Nu se completează de către elev
COD

10.

11. Copiii au ajuns în livadă la ora 9:00 și au plecat acasă la ora 12:00. Câte ore au petrecut copiii în livadă?

Încercuiește litera corespunzătoare răspunsului corect.

- a) 2 ore
- b) 3 ore
- c) 12 ore
- d) 21 ore

Nu se completează de către elev
COD

11.

12. Mihai a notat într-un tabel, ca cel de mai jos, cât costă 1 kg de fructe din cele văzute în livadă.


1 kg cireșe	10 lei
1 kg mere	4 lei
1 kg pere	6 lei
1 kg prune	7 lei

El spune că, din cei 30 de lei pe care îi are, poate cumpăra 2 kg de cireșe, 1 kg de mere, 1 kg de pere și 1 kg de prune. Crezi că are dreptate Mihai?

Explică, în spațiul dat, răspunsul tău.

Da, pentru că _____

Nu, pentru că _____



Nu se completează de către elev
COD

12.

**FELICITĂRI, AI AJUNS LA SFÂRȘITUL TESTULUI!
MULȚUMIM PENTRU PARTICIPARE!**

