



**EVALUAREA COMPETENȚELOR FUNDAMENTALE
LA FINALUL CLASEI a II-a
2022**

Test 2

MATEMATICĂ

Județul / sectorul.....

Localitatea.....

Școala.....

Numele și prenumele elevei / elevului.....

.....

Clasa a II-a.....


Băiat

Fată

5. Au fost pregătite, pentru a fi duse la piață, 20 de lădițe cu pere și de 4 ori mai puține lădițe cu cireșe. Câte lădițe cu cireșe au fost pregătite?

Calculează prin scădere repetată a aceluiași număr.

Scrie, pe spațiul dat, rezolvarea problemei.




Nu se completează de către elev
COD

5.

6. La sfârșit, copiii au mâncat dintr-o prăjitură cu fructe.

Cu ce figură geometrică se aseamănă tava în care a fost coaptă prăjitura?

Încercuiește litera corespunzătoare răspunsului corect.



- a) cerc
- b) dreptunghi
- c) pătrat
- d) triunghi

Nu se completează de către elev
COD

6.

7. Acasă, Cristina a realizat un desen, folosind ca model fructele pomilor văzuți în livadă și așezându-le ca în șirul de mai jos. Ce fructe urmează în șir?

Încercuiește litera corespunzătoare răspunsului corect.



a)



b)



c)



d)



Nu se completează de către elev
COD

7.

8. Diana a cules 9 pere proaspete din pom și le-a împărțit în mod egal celorlalți 3 copii. Câte pere a primit fiecare copil?

Încercuiește litera corespunzătoare răspunsului corect.

- a) 3
- b) 6
- c) 12
- d) 27

Nu se completează de către elev
COD

8.

9. Pe prima pagină a rețetei pentru prăjitura cu fructe, Tudor a desenat o pară, ca în imaginea de mai jos. În ce parte a imaginii se află para?

Încercuiește litera corespunzătoare răspunsului corect.

PRĂJITURĂ CU FRUCTE

- 3 mere
- 2 ouă
- 100 g făină
- 100 g zahăr
- 100 g unt
- praf de copt
- vanilie
- sare
- suc de lămâie






- a) în dreapta jos
- b) în dreapta sus
- c) în stânga jos
- d) în stânga sus

Nu se completează de către elev
COD

9.

10. Fiecare copil a lipit câte o imagine cu un fruct pe cartonașe de forme diferite.

Scrive, în spațiul dat, numele formei geometrice a cartonașului pe care este lipită imaginea cu un măr.



Cartonașul pe care este lipită imaginea cu un măr are forma de _____ .

Nu se completează de către elev
COD

10.

11. Copiii au ajuns în livadă la ora 10:00 și au plecat acasă la ora 12:00. Câte ore au petrecut copiii în livadă?

Încercuiește litera corespunzătoare răspunsului corect.

- a) 2 ore
- b) 3 ore
- c) 12 ore
- d) 22 ore

Nu se completează de către elev
COD

11.

