



**EVALUAREA COMPETENȚELOR FUNDAMENTALE
LA FINALUL CLASEI a II-a
2023**

Test 1

MATEMATICĂ

Județul / sectorul.....

Localitatea.....

Școala.....

Numele și prenumele elevei / elevului.....

.....

Clasa a II-a.....






Băiat

Fată

3. Pentru ca toți elevii interesați să poată citi „Enciclopedia animalelor”, doamna învățătoare a adus de la bibliotecă mai multe cărți, pe care le-a așezat pe catedră, ca în imaginea de mai jos. Câte cărți a adus în total doamna învățătoare?

Calculează prin adunare repetată de termeni egali.

Scrie, pe spațiul dat, rezolvarea problemei.



Nu se completează de către elev
COD

3.

4. Din „Enciclopedia animalelor”, Răzvan a aflat că un bursuc poate strânge într-o zi 6 kg de porumb, pe care îl depozitează în vizuina sa. Câte kg de porumb strânge bursucul în 4 zile?

Încercuiește litera corespunzătoare răspunsului corect.

- a) 2 kg
- b) 6 kg
- c) 10 kg
- d) 24 kg


Nu se completează de către elev
COD

4.

5. Corina a pregătit, pentru colegii săi, 24 de fotografii cu căprioare și de 4 ori mai puține fotografii cu girafe. Câte fotografii cu girafe a pregătit Corina?

Calculează prin scădere repetată a aceluiași număr.

Scrie, pe spațiul dat, rezolvarea problemei.




Nu se completează de către elev
COD

5.

6. Andrei le-a prezentat colegilor săi o planșă cu câteva informații despre elefant.

Cu ce figură geometrică se aseamănă planșa realizată de Andrei?

Încercuiește litera corespunzătoare răspunsului corect.



**Elefantul este cel mai mare și cel mai greu animal din lume.
El consumă 250 kg de mâncare și bea în jur de 190 l de apă în fiecare zi.
Elefantul are 2 colți din fildeș, din care se fac bijuterii deosebit de frumoase.
El are o memorie foarte bună.**

- a) cerc
- b) dreptunghi
- c) pătrat
- d) triunghi

Nu se completează de către elev
COD

6.

7. Pentru a se juca, Corina a așezat fotografiile cu animalele preferate ca în șirul de mai jos. Ce fotografii urmează în șir?

Încercuiește litera corespunzătoare răspunsului corect.



Nu se completează de către elev
COD

7.

8. Răzvan a ales 12 fotografii cu animalele sale preferate și a dat câte 3 fotografii prietenilor săi. Câți copii au primit fotografii?

Încercuiește litera corespunzătoare răspunsului corect.

- a) 3 copii
- b) 4 copii
- c) 9 copii
- d) 15 copii

Nu se completează de către elev
COD

8.

9. Ioana le-a arătat celorlalți copii fotografia de mai jos, în care este prezentată o maimuță, animalul său preferat. În ce parte a fotografiei se află maimuța?

Încercuiește litera corespunzătoare răspunsului corect.

- a) în dreapta jos
- b) în dreapta sus
- c) în stânga jos
- d) în stânga sus





Nu se completează de către elev
COD

9.

10. Fiecare copil a lipit câte o imagine cu animalul preferat pe cartonașe de forme diferite.

Scrive, în spațiul dat, numele formei geometrice pe care o are cartonașul pe care este lipită imaginea cu o vulpe.



Cartonașul pe care este lipită imaginea cu o vulpe are formă de _____.

Nu se completează de către elev
COD

10.

